

# Locja

## zestaw pytań

**1. Po wpłynięciu do śluzy należy:**

- a) wysłać całą załogę na brzeg
- b) rzucić kotwicę
- c) zacumować się na biegowo
- d) żadna odpowiedź nie jest prawidłowa

**2. Przed wpłynięciem do śluzy należy**

- a) odpompować zęzę
- b) przygotować się do chronienia burt (bosak, odbijacze)
- c) wysłać całą załogę na brzeg
- d) żadna odpowiedź nie jest prawidłowa

**3. Podczas śluzowania nie wolno:**

- a) odpychać się od ściany śluzy za pomocą rąk lub nóg
- b) zacumować się na biegowo
- c) zacumować się do innego jachtu
- d) żadna odpowiedź nie jest prawidłowa

**4. Podczas śluzowania nie wolno:**


- a) chronić burt odpychając jacht od ściany śluzy za pomocą bosaka
- b) odcumować się przed uzyskaniem zezwolenia na wyjście
- c) cumować się na biegowo
- d) żadna odpowiedź nie jest prawidłowa

**5. Podczas napełniania i opróżniania śluzy nie wolno:**

- a) zacumować się do innego jachtu
- b) chronić burt za pomocą bosaka
- c) używać pędnika
- d) żadna odpowiedź nie jest prawidłowa

**6. Znak przedstawiony obok oznacza:**

- a) lewa strona szlaku żeglownego
- b) strefa ekologiczna
- c) zezwolenie przejścia
- d) żadna odpowiedź nie jest prawidłowa




**7. Znak przedstawiony obok oznacza:**

- a) wąskie przejście okresowo zamykane z powodu sieci rybackich
- b) odnoga głównego szlaku bez przejścia
- c) jaz w bliskiej odległości
- d) żadna odpowiedź nie jest prawidłowa



**8. Znak przedstawiony obok oznacza:**

- a) nakaz zwiększenia uwagi
- b) nakaz rozłączenia zestawu holowanego
- c) nakaz zatrzymania statku
- d) nakaz nadania sygnału dźwiękowego



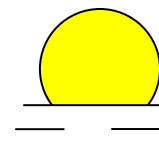
**9. Znak przedstawiony obok oznacza:**

- a) zakaz postoju na szerokości 40 m (od znaku)
- b) zakaz wpływania zestawów o długości większej niż 40 m
- c) zakaz przekraczania prędkości 40 km/h
- d) żadna odpowiedź nie jest prawidłowa



**10. Znak przedstawiony obok oznacza:**

- a) miejsce postoju statków z materiałami niebezpiecznymi
- b) miejsce postoju statków z materiałami toksycznymi
- c) akwen zamknięty dla żeglugi
- d) żadna odpowiedź nie jest prawidłowa



**11. Znak przedstawiony obok oznacza:**

- a) miejsce, w którym można korzystać z energii elektrycznej
- b) wskazanie kabla podwodnego leżącego na głębokości 12 m
- c) wskazanie linii napowietrznej nad drogą wodną
- d) żadna odpowiedź nie jest prawidłowa




**12. Znak przedstawiony obok oznacza:**

- a) ograniczenie szerokości kanału lub szlaku żeglownego do 20 m
- b) zakaz ruchu statków o długości powyżej 20 m
- c) zakaz ruchu statków o szerokości powyżej 20 m
- d) żadna odpowiedź nie jest prawidłowa



**13. W miejscu oznaczonym znakiem można:**

- a) stanąć na postoju tylko w godzinach nocnych
- b) stanąć na postoju przy brzegu na kotwicy
- c) stanąć na postoju przy brzegu na cumach
- d) żadna odpowiedź nie jest prawidłowa



**14. Znak przedstawiony obok oznacza:**

- a) rozgałęzienie się szlaków
- b) bezpieczną wodę
- c) prawa strona szlaku żeglownego – płynąć blisko znaku
- d) odosobnione niebezpieczeństwo



**15. Znak przedstawiony obok oznacza:**

- a) koniec szlaku dla jachtów żaglowych
- b) koniec szlaku dla statków rozwijających duże prędkości
- c) koniec obowiązywania zakazów, nakazów i ograniczeń
- d) koniec zezwolenia na ruch statków wiosłowych, żaglowych, rozwijających duże prędkości lub ciągnących narciarza



**16. Znak przedstawiony obok oznacza:**

- a) nakaz zatrzymania statku w warunkach określonych przepisami
- b) nakaz płynięcia prosto
- c) nakaz zachowania szczególnej ostrożności
- d) żadna odpowiedź nie jest prawidłowa



**17. Znak przedstawiony obok oznacza:**

- a) wyjście z jeziora lub szerokiej drogi wodnej
- b) miejsce zrzucania pni i budowy tratw (binduga)
- c) miejsce postoju statków ratunkowych
- d) żadna odpowiedź nie jest prawidłowa



**18. Znak przedstawiony obok oznacza:**

- a) zakaz wpływania
- b) miejsce niebezpieczne
- c) prawa strona szlaku żeglownego
- d) bezpieczną wodę



**19. Znak przedstawiony obok oznacza:**

- a) miejsce postoju statków regularnej żeglugi
- b) w pobliżu znajduje się pochylnia
- c) prom na uwięzi
- d) miejsce postoju holowników



**20. Znak przedstawiony obok oznacza:**

- a) nakaz zwiększenia uwagi
- b) nakaz nadania sygnału dźwiękowego
- c) nakaz zatrzymania statku
- d) żadna odpowiedź nie jest prawidłowa



**21. Znak przedstawiony obok oznacza:**

- a) wyjście z jeziora lub szerokiej drogi wodnej
- b) miejsce postoju pogłębiarki
- c) miejsce zrzucania pni i budowy tratw (binduga)
- d) żadna odpowiedź nie jest prawidłowa



**22. Znak przedstawiony obok oznacza:**

- a) zezwolenia na ruch statków rozwijających prędkości do 60 km/h
- b) zezwolenie na postój dla jednostek o długości do 60 m
- c) zezwolenie na postój nie dłuższy niż 60 minut
- d) zezwolenie na postój na akwenu o szerokości 60 m od znaku



**23. Znak przedstawiony obok oznacza:**

- a) wskazanie kanału VHF, na którym można uzyskać informacje nawigacyjne
- b) miejsce postoju dla statków o dużym zanurzeniu
- c) zezwolenie na postój maksymalnie 4 jednostek burta przy burcie
- d) żadna odpowiedź nie jest prawidłowa



**24. W miejscu oznaczonym znakiem należy:**

- a) zatrzymać się na postój w odległości minimum 40m od znaku we wskazanym kierunku
- b) przepływać w odległości mniejszej od 40m od brzegu
- c) przepływać w odległości większej od 40m od brzegu
- d) żadna odpowiedź nie jest prawidłowa



**25. Znak przedstawiony obok oznacza:**

- a) nakaz prowadzenia nasłuchu na 12 kanale
- b) nakaz nieprzekraczania prędkości 12 km/h
- c) nakaz ograniczenia długości zestawów holowanych do 12 m
- d) nakaz nieprzekraczania prędkości 12 węzłów



**26. Locja to dział wiedzy zajmujący się:**

- a) opisem statków w ruchu
- b) opisem i oznakowaniem dróg wodnych
- c) sygnalizacją statków w ruchu
- d) opisem właściwości nautycznych statków

**27. Płynąc po rzece należy unikać miejsc, w których:**

- a) powstają wiry i fala
- b) jest gładka powierzchnia wody
- c) oznaczonych boją w kształcie kuli w biało-czerwone pionowe pasy
- d) żadna odpowiedź nie jest prawidłowa

**28. Przeszkodę pod wodą na rzece można poznać po:**

- a) gładkiej powierzchni wody
- b) powstającej fali i wirach
- c) boi w kształcie kuli w biało-czerwone pionowe pasy
- d) żadna odpowiedź nie jest prawidłowa

**29. Bezpieczny szlak (wodę) na rzece można poznać po:**


- a) powstających wirach
- b) gładkiej powierzchni wody
- c) pomarszczonej jaśniejszej wodzie
- d) załamujących się falach

**30. Bezpieczną wodę na rzece można poznać po:**

- a) burzliwym przepływie wody na powierzchni wody
- b) powstającej fali i wirach na powierzchni wody
- c) boi w czarno-czerwone poziome pasy z dwoma czarnymi kulami jako znak szczytowy
- d) boi w biało-czerwone pionowe pasy z czerwoną kulą jako znak szczytowy

**31. Znak przedstawiony obok oznacza:**

- a) zakaz włączania silnika spalinowego
- b) zakaz używania silnika spalinowego
- c) zakaz ruchu statków o napędzie mechanicznym
- d) zakaz używania silnika elektrycznego



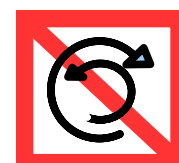
**32. Znak przedstawiony obok oznacza zakaz:**

- a) urządzenia imprez sportowych
- b) urządzenia imprez sportowych i rekreacyjnych
- c) ruchu statków używanych wyłącznie do uprawiania sportu i rekreacji
- d) żeglugi niezarobkowej



**33. Znak przedstawiony obok oznacza:**

- a) zakaz cofania
- b) zakaz gwałtownych skrętów
- c) zakaz zawracania
- d) nakaz zwiększenia uwagi – most obrotowy



**34. Znak przedstawiony obok oznacza zakaz:**

- a) pływania ketem
- b) urządzania regat żeglarskich
- c) ruchu statków żaglowych
- d) żadna odpowiedź nie jest prawidłowa




**35. Znak przedstawiony obok oznacza:**

- a) zakaz pływania podczas wysokiej fali
- b) nakaz zwiększenia uwagi – miejsce występowania wysokiej fali
- c) zakaz wytwarzania wysokiej fali
- d) nakaz zwiększenia uwagi – miejsce występowania silnych prądów




**36. Znak przedstawiony obok oznacza zakaz:**

- a) mijania
- b) wyprzedzania
- c) mijania i wyprzedzania
- d) zawracania



**37. Znak przedstawiony obok oznacza:**

- a) szlak biegnie blisko prawego brzegu (przy znaku)
- b) wyjście z jeziora lub szerokiej drogi wodnej z prawej strony od znaku
- c) zakaz przejścia
- d) wyjście z jeziora lub szerokiej drogi wodnej z lewej strony od znaku



**38. Znak przedstawiony obok oznacza zakaz:**

- a) pływania na desce z żaglem i uprawiania narciarstwa wodnego
- b) pływania na desce z żaglem i holowania statków powietrznych za statkami
- c) pływania na desce z żaglem
- d) ruchu małych jachtów żaglowych



**39. Znak przedstawiony obok oznacza zakaz uprawiania:**

- a) sportu i rekreacji
- b) narciarstwa wodnego i pływania na desce z żaglem
- c) narciarstwa wodnego i holowania statków powietrznych za statkami
- d) narciarstwa wodnego i ruchu skuterów wodnych




**40. Znak przedstawiony obok oznacza zakaz:**

- a) cumowania do brzegu lub kotwiczenia
- b) cumowania dużych statków
- c) cumowania do brzegu
- d) cumowania do polderów



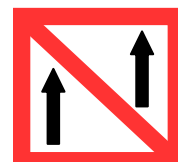
**41. Znak przedstawiony obok oznacza zakaz:**

- a) kotwiczenia i cumowania
- b) używania ciężkich kotwic
- c) kotwiczenia, wleczenia kotwicy, łańcucha, liny
- d) żadna odpowiedź nie jest prawidłowa



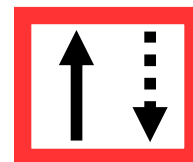
**42. Znak przedstawiony obok oznacza:**

- a) nakaz zachowania odległości od statku płynącego z przodu
- b) zakaz mijania i wyprzedzania
- c) zakaz wyprzedzania
- d) zakaz płynięcia obok innych statków



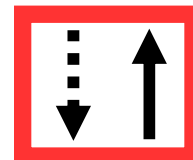
**43. Znak przedstawiony obok oznacza:**

- a) w wąskim przejściu mamy pierwszeństwo względem statków płynących w przeciwną stronę
- b) nakaz mijania z lewej burty
- c) nakaz trzymania się strony szlaku znajdującej się z lewej burty
- d) na kanale obowiązuje ruch lewostronny




**44. Znak przedstawiony obok oznacza:**

- a) nakaz zachowania ostrożności w wąskim przejściu
- b) nakaz płynięcia prosto, gdy płynie statek w przeciwnym kierunku
- c) nakaz trzymania się strony szlaku znajdującej się z prawej burty
- d) na kanale obowiązuje ruch prawostronny




**45. Znak przedstawiony obok oznacza:**

- a) nakaz rozłączenia pociągów holowniczych
- b) nakaz zatrzymania się przed przecięciem drogi głównej
- c) nakaz zachowania szczególnej ostrożności przy przecinaniu drogi głównej
- d) nakaz zachowania szczególnej ostrożności w basenie portowym



**46. Znak przedstawiony obok oznacza:**

- a) kierunek obowiązywania zakazu, pod którym znak się znajduje
- b) kierunek obowiązywania nakazu, pod którym znak się znajduje
- c) nakaz płynięcia w kierunku wskazanym na znaku
- d) kierunek przebiegu głównego szlaku



**47. Znak przedstawiony obok oznacza:**

- a) zezwolenie na rozwijanie dużych prędkości
- b) zezwolenie na używanie silnika (pędnika)
- c) zezwolenie na ruch żeglugowy statków o napędzie mechanicznym
- d) informuje, że w pobliżu znajduje się stacja obsługi silników



**48. Znak przedstawiony obok oznacza:**

- a) zezwolenie na pływanie na desce z żaglem i nartach wodnych
- b) zezwolenie na uprawianie sportu
- c) zezwolenie na pływanie na desce z żaglem
- d) informuje, że w pobliżu znajduje się ośrodek sportów wodnych




**49. Znak przedstawiony obok oznacza:**

- a) zezwolenie na uprawianie sportów wodnych
- b) akwen przeznaczony na naukę narciarstwa wodnego
- c) zezwolenie na uprawianie narciarstwa wodnego oraz holowanie statków powietrznych za statkami
- d) informuje, że w pobliżu znajdują się obiekty służące do narciarstwa wodnego



**50. Znak przedstawiony obok oznacza:**

- a) akwen przeznaczony na imprezy sportowe i rekreacyjne
- b) ośrodek sportowy
- c) zezwolenie na ruch żeglugowy statków sportowych i rekreacyjnych
- d) żadna odpowiedź nie jest prawidłowa



**51. Znak przedstawiony obok oznacza:**

- a) wskazanie miejsca postoju promu
- b) wskazanie miejsca postoju żeglugi pasażerskiej
- c) zezwolenie na postój na kotwicy i wleczenie kotwicy, łańcucha lub liny
- d) zezwolenie na kotwiczenie lub cumowanie do brzegu



**52. Znak przedstawiony obok wskazuje na kanał radiotelefoniczny:**

- a) na którym należy dokonywać nasłuchu
- b) na którym można wzywać pomocy
- c) na którym można uzyskać informacje nawigacyjne
- d) na którym można porozumiewać się z kapitanatem portu



**53. Znak przedstawiony obok oznacza:**

- a) przeszkoda wodna w bliskiej odległości
- b) konieczność przeprawy lądowej
- c) zezwolenie na wodowanie i wciąganie statków na brzeg
- d) żadna odpowiedź nie jest prawidłowa



**54. Znak przedstawiony obok oznacza:**

- a) zezwolenie tylko na żeglugę turystyczną i rekreacyjną
- b) zezwolenie na pływanie ketem
- c) zezwolenie na ruch statków żaglowych
- d) akwen przeznaczony do regat żeglarskich




**55. Znak przedstawiony obok oznacza:**

- a) miejsce postoju holowników
- b) miejsce postoju żeglugi pasażerskiej
- c) prom przemieszczający się swobodnie
- d) akwen tylko dla żeglugi zawodowej



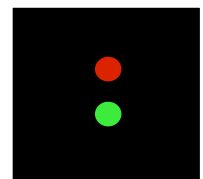
**56. Znak przedstawiony obok oznacza:**

- a) akwen zamknięty dla grupy statków
- b) miejsce postoju dla statków pokazujących podczas ruchu dwa stożki
- c) miejsce postoju dla barek załadowanych materiałami niebezpiecznymi
- d) miejsce postoju dla statków nie przewożących materiałów niebezpiecznych




**57. Znak przedstawiony obok oznacza:**

- a) miejsce rozgałęzienia się szlaku
- b) miejsce rozgałęzienia się szlaku – szlak główny w prawo
- c) miejsce rozgałęzienia się szlaku – szlak główny w lewo
- d) przygotowanie śluzy do otwarcia




**58. Znak przedstawiony obok oznacza:**

- a) wyjście z jeziora lub szerokiej drogi wodnej z lewej strony od znaku
- b) przygotowanie śluzy do otwarcia
- c) wyjście z jeziora lub szerokiej drogi wodnej z prawej strony od znaku
- d) zakaz wytwarzania wysokiej fali



**59. Jacht mijający prawą burtą znak przedstawiony na rysunku:**

- a) płynie w górę szlaku
- b) nie można ustalić kierunku płynięcia jachtu
- c) powinien natychmiast zatrzymać się
- d) płynie w dół szlaku





**60. Jacht przepływający przy znaku przedstawionym na rysunku:**

- a) znajduje się na końcu szlaku żeglownego
- b) znajduje się przy miejscu niebezpiecznym na środku szlaku
- c) znajduje się w miejscu gdzie szlak śródlądowy zamienia się w wody morskie
- d) znajduje się przy trasie promów

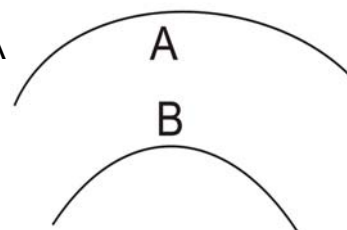


**61. Pojedyncze żółte rytmiczne światło o częstotliwości 40 mignięć na minutę widoczne na boi lub słupie przy brzegu jeziora oznacza:**

- a) mieliznę
- b) wskazanie miejsca postoju dla promów
- c) możliwość nadejścia burzy i b. silnego wiatru
- d) zakaz poruszania się na silniku

**62. Typowe zakole na rzece nieuregulowanej charakteryzuje się:**

- a) występowaniem głębokiej wody w miejscu oznaczonym literą A
- b) występowaniem płycizny w miejscu oznaczonym literą A
- c) wypłyleniem w miejscach oznaczonych literami A i B
- d) dużą głębokością w miejscach oznaczonych literami A i B



**63. Przepływając jachtem pod mostem, pomiędzy filarami wyrastającymi z wody napotkamy:**

- a) zmniejszenie szybkości prądu rzeki
- b) stojącą wodę
- c) ustabilizowanie kierunku prądu rzeki
- d) przyspieszenie prądu i wiry


**64. Nabrzeże oznakowane znakiem widocznym na rysunku jest:**

- a) miejscem postoju dla jachtów motorowych
- b) miejscem postoju dla jachtów o długości powyżej 12 metrów
- c) miejscem postoju burtą w burtę dla trzech jachtów
- d) miejscem postoju dla statków z materiałami niebezpiecznymi




**65. Zapalone światło stałe czerwone i zielone na wodach śródlądowych lub czerwone i białe - na wodach morskich umieszczone przed mostem lub śluzą oznaczają:**

- a) nakaz wyłączenia silników podczas oczekiwania na przejście
- b) zezwolenie na wpłynięcie do komory śluzy lub pod mostem
- c) zakaz przepływania - przygotować się do przepływania
- d) że za chwilę przejście zostanie zamknięte.




lub



**66. Znak przedstawiony obok oznacza:**


- a) wyjście z jeziora lub szerokiej drogi wodnej z prawej strony od znaku
- b) przygotowanie śluzy do otwarcia
- c) wyjście z jeziora lub szerokiej drogi wodnej z prawej strony od znaku
- d) zezwolenie przejścia w jednym kierunku





**67. Znak przedstawiony obok oznacza:**

- a) zezwolenie przejścia w obydwu kierunkach
- b) akwen zamknięty dla żeglugi
- c) nakaz zwiększenia uwagi
- d) zezwolenie przejścia w jednym kierunku




**68. Znak przedstawiony obok oznacza:**

- a) zezwolenie przejścia w obydwu kierunkach
- b) informacja o skrzyżowaniu z drogą drugorzędną
- c) nakaz zwiększenia uwagi przed skrzyżowaniem z drogą główną
- d) zezwolenie przejścia w jednym kierunku



**69. Znak przedstawiony obok oznacza:**

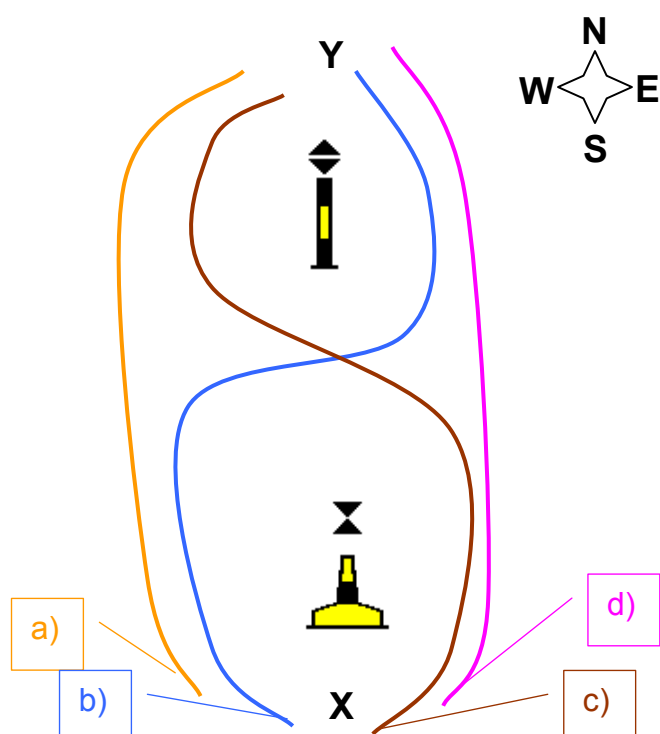
- a) nakaz zwiększenia uwagi przed skrzyżowaniem z drogą główną
- b) przygotowanie służby do otwarcia
- c) wyjście z jeziora lub szerokiej drogi wodnej z prawej strony od znaku
- d) zezwolenie przejścia w obydwu kierunkach



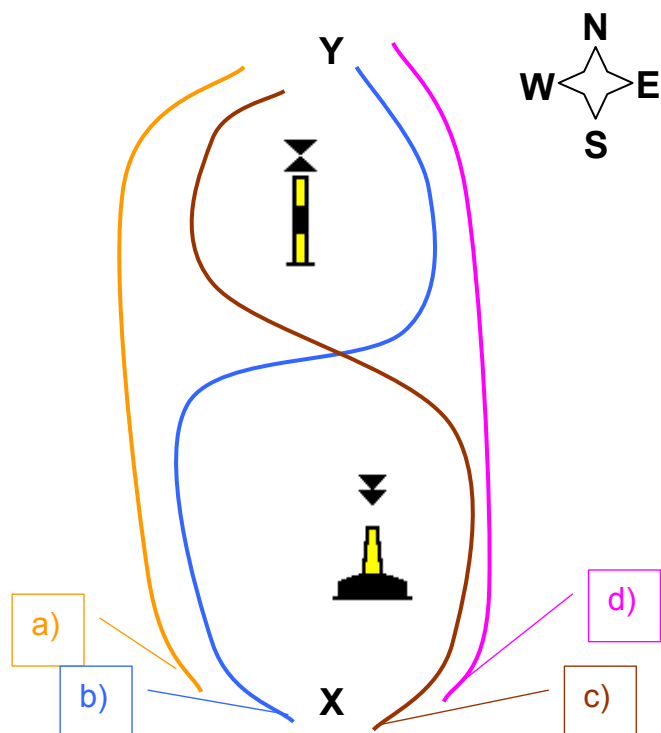
**70. Przykosa to mielizna, którą można poznać po:**

- a) wirach przy wewnętrznej stronie zakola
- b) występowaniu płycizny na całej szerokości rzeki
- c) porastającej roślinności na środku rzeki (przy niskim poziomie wody - wyspa)
- d) marszczeniu wody na kancie

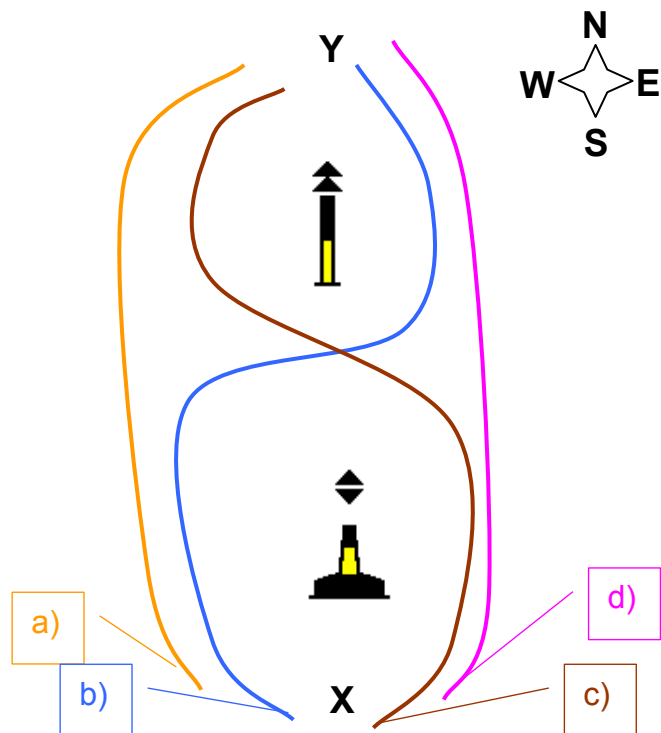
**71. Wybierz przebieg szlaku wodnego (drogę jachtu) od punktu X do punktu Y, uwzględniając położenie podanych kierunków geograficznych:**



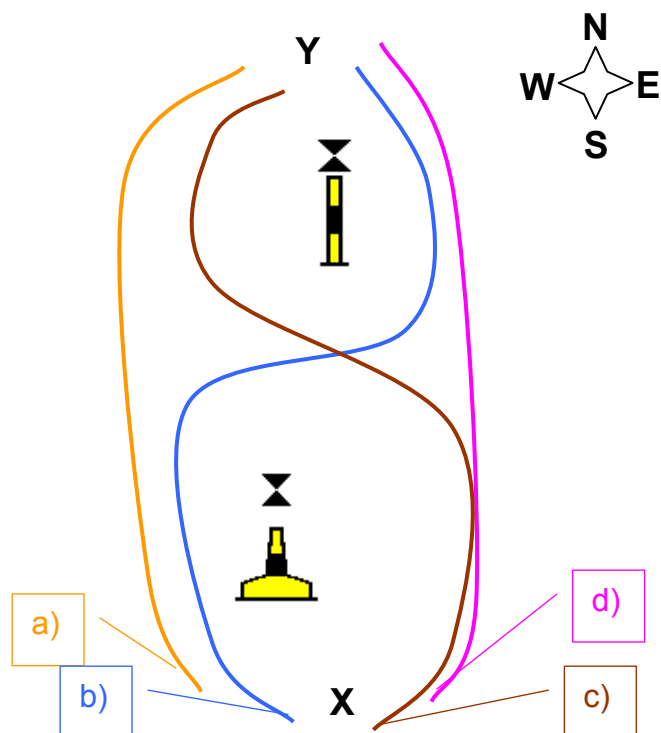
72. Wybierz przebieg szlaku wodnego (drogę jachtu) od punktu X do punktu Y, uwzględniając położenie podanych kierunków geograficznych:



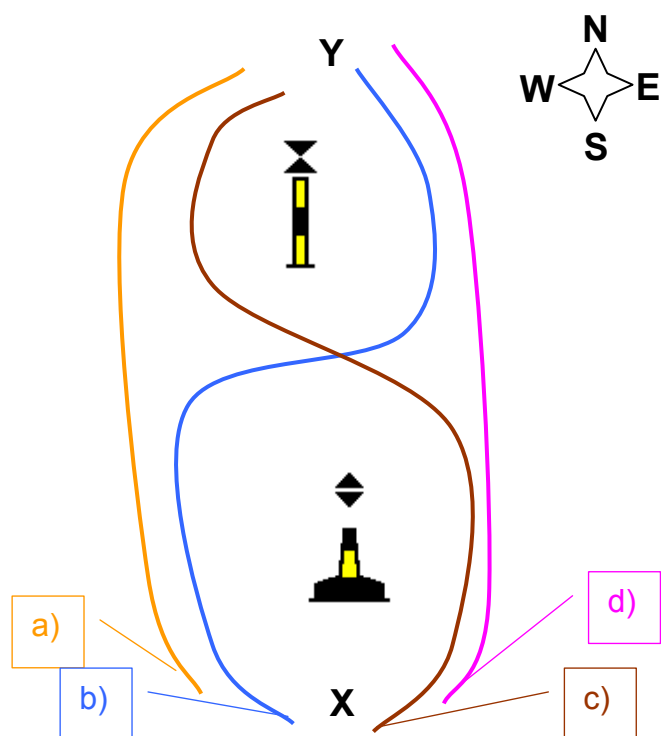
73. Wybierz przebieg szlaku wodnego (drogę jachtu) od punktu X do punktu Y, uwzględniając położenie podanych kierunków geograficznych:



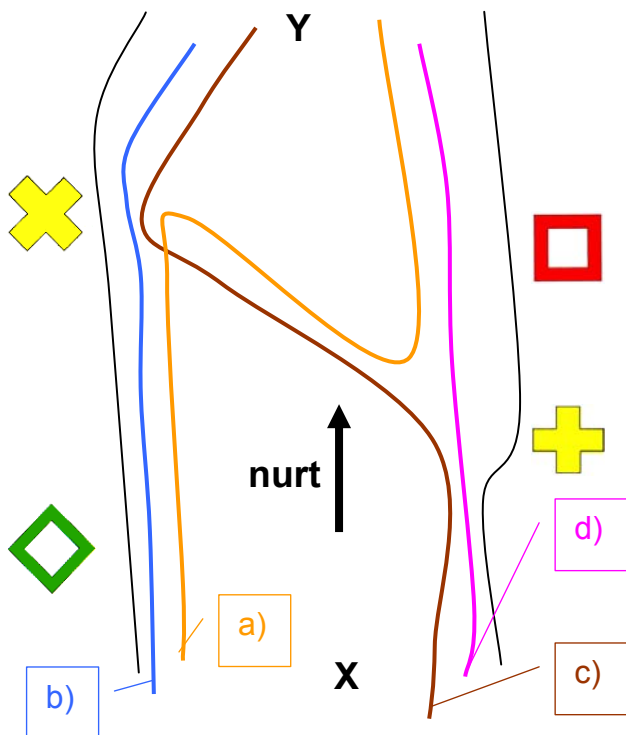
74. Wybierz przebieg szlaku wodnego (drogę jachtu) od punktu X do punktu Y, uwzględniając położenie podanych kierunków geograficznych:



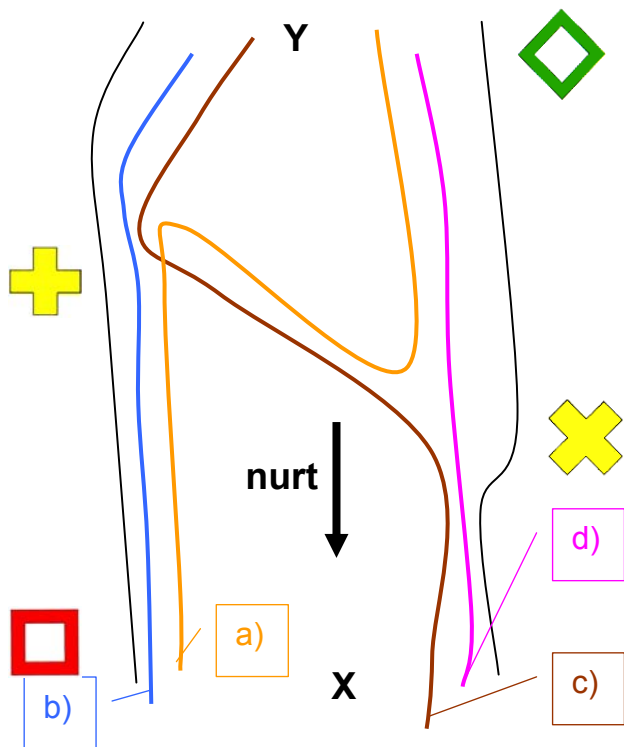
75. Wybierz przebieg szlaku wodnego (drogę jachtu) od punktu X do punktu Y, uwzględniając położenie podanych kierunków geograficznych:



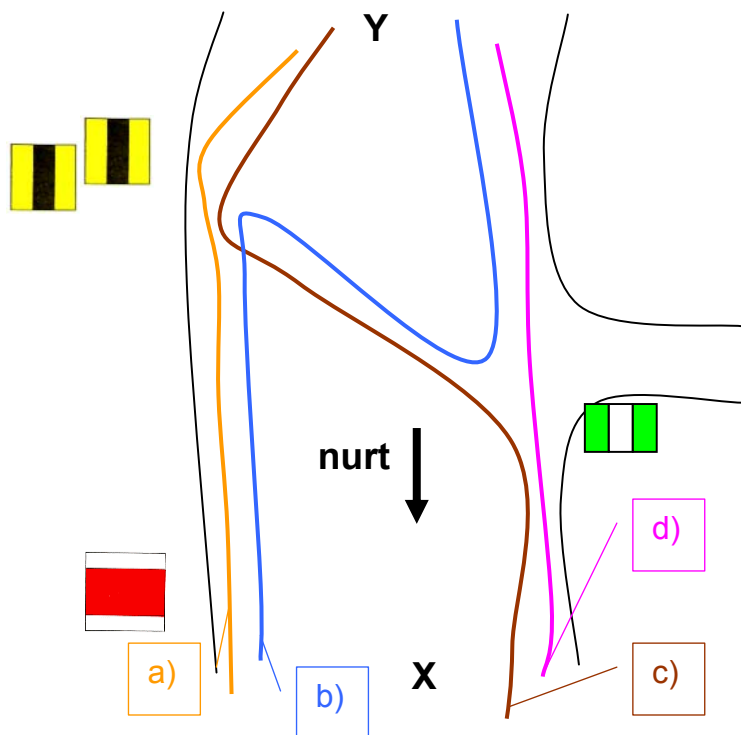
76. Wybierz przebieg szlaku wodnego (drogę jachtu) od punktu X do punktu Y, uwzględniając kierunek nurtu i brzeg rzeki (kolor czarny):



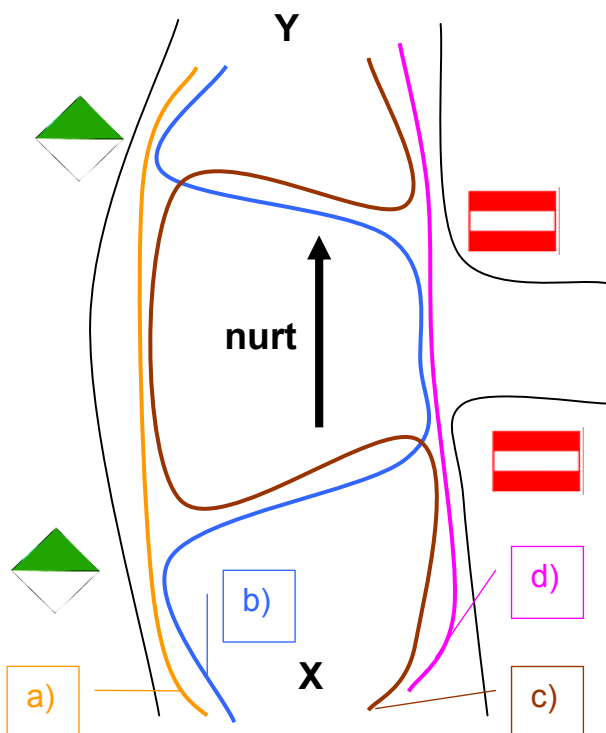
77. Wybierz przebieg szlaku wodnego (drogę jachtu) od punktu X do punktu Y, uwzględniając kierunek nurtu i brzeg rzeki (kolor czarny):



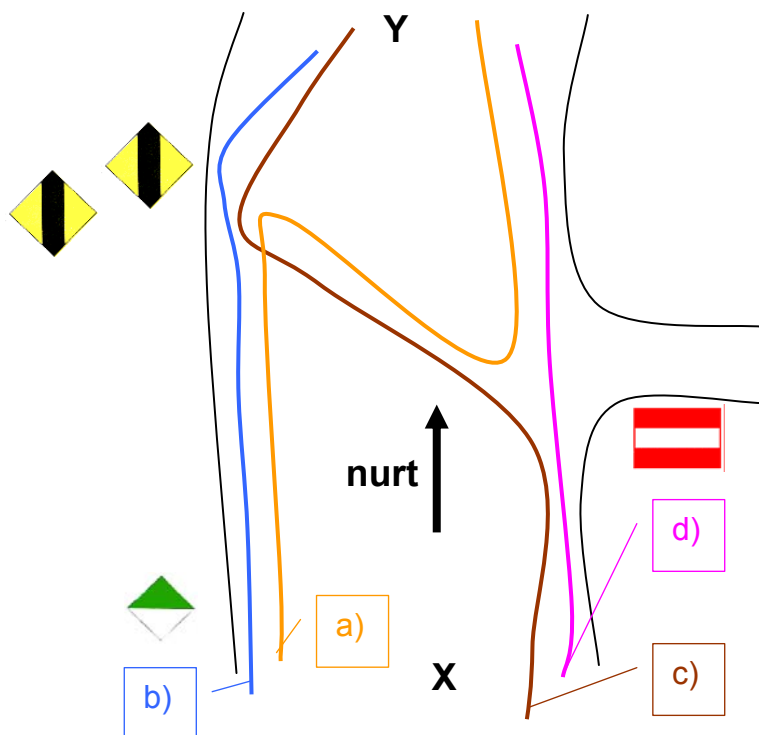
78. Wybierz przebieg szlaku wodnego (drogę jachtu) od punktu X do punktu Y, uwzględniając kierunek nurtu i brzeg rzeki (kolor czarny):



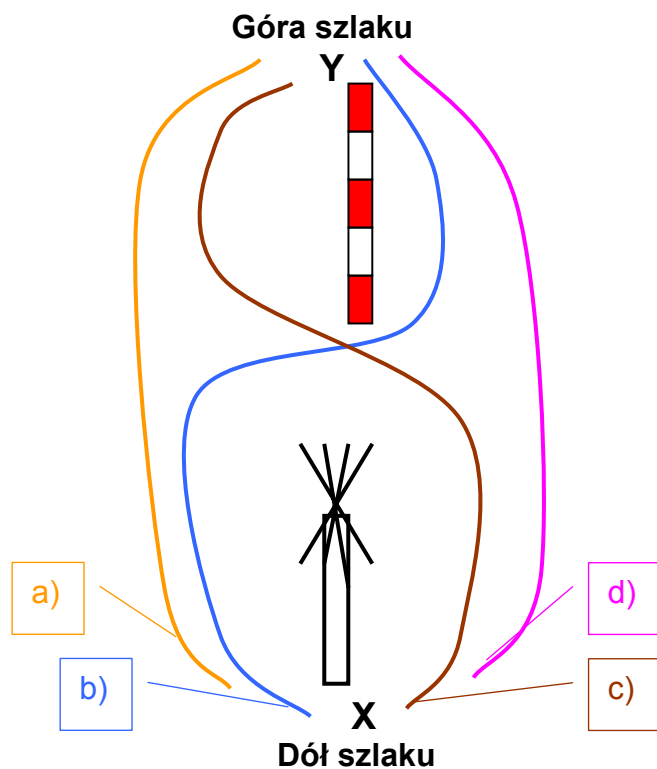
79. Wybierz przebieg szlaku wodnego (drogę jachtu) od punktu X do punktu Y, uwzględniając kierunek nurtu i brzeg rzeki (kolor czarny):



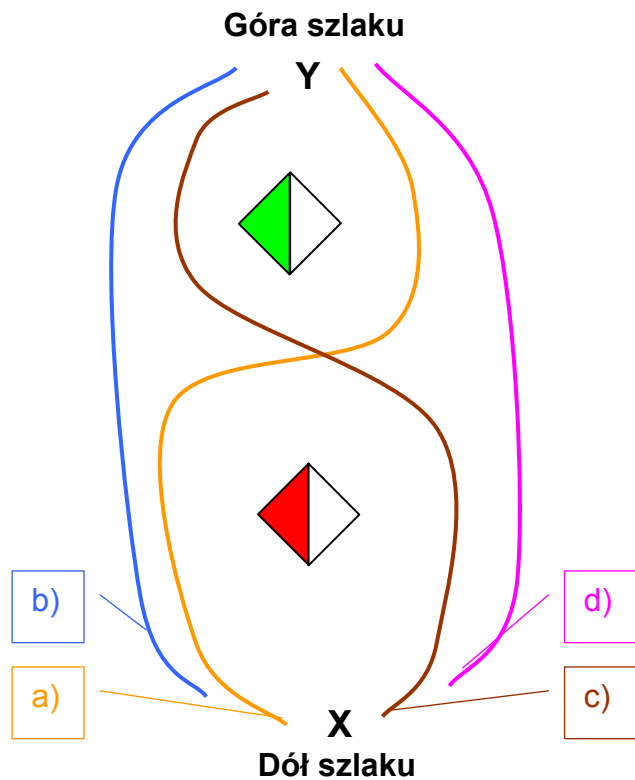
80. Wybierz przebieg szlaku wodnego (drogę jachtu) od punktu X do punktu Y, uwzględniając kierunek nurtu i brzeg rzeki (kolor czarny):



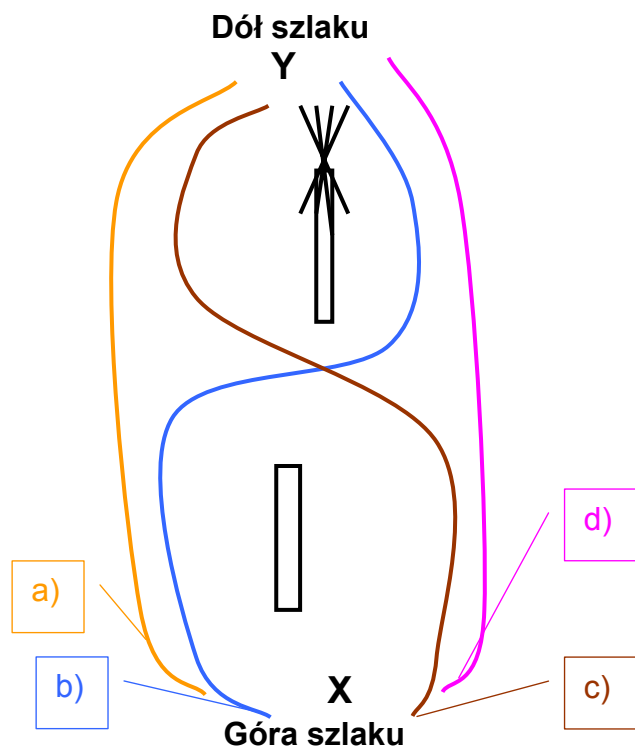
81. Wybierz przebieg szlaku wodnego (drogę jachtu) od punktu X do punktu Y, uwzględniając położenie góry i dołu szlaku:



**82. Wybierz przebieg szlaku wodnego (drogę jachtu) od punktu X do punktu Y, uwzględniając położenie góry i dołu szlaku:**

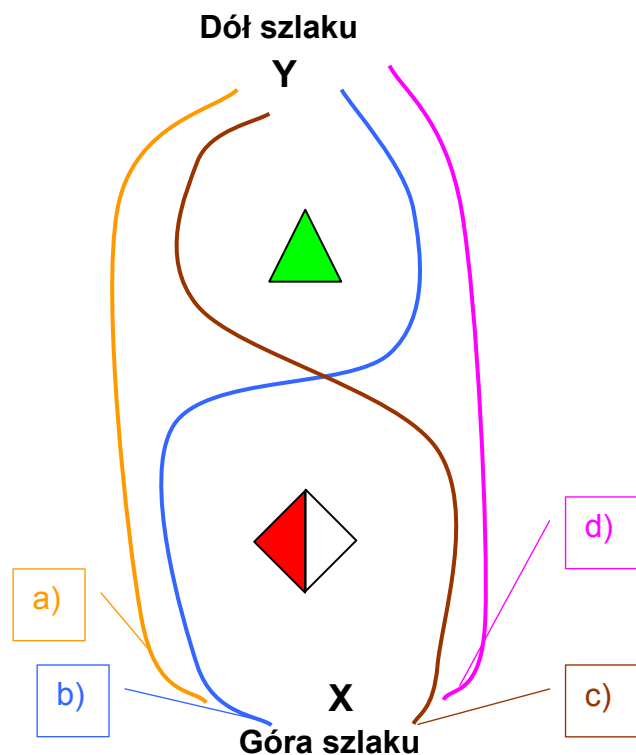


**83. Wybierz przebieg szlaku wodnego (drogę jachtu) od punktu X do punktu Y, uwzględniając położenie góry i dołu szlaku:**

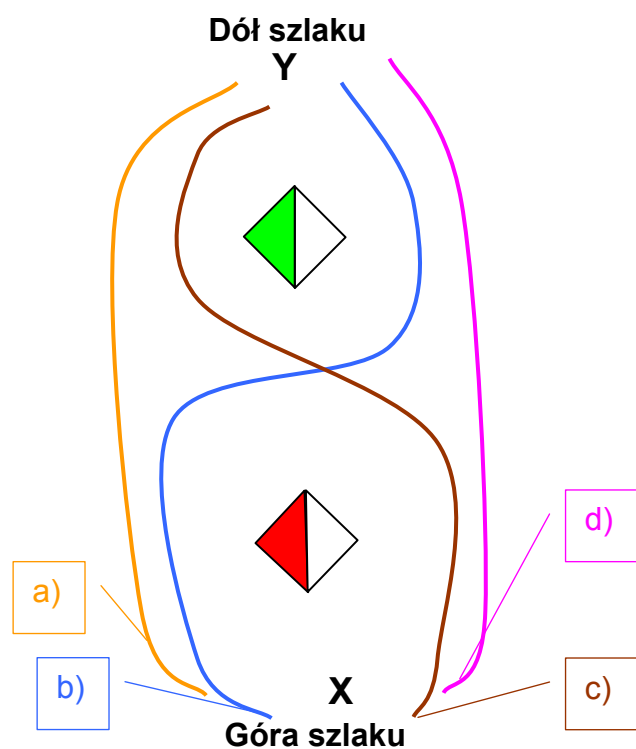




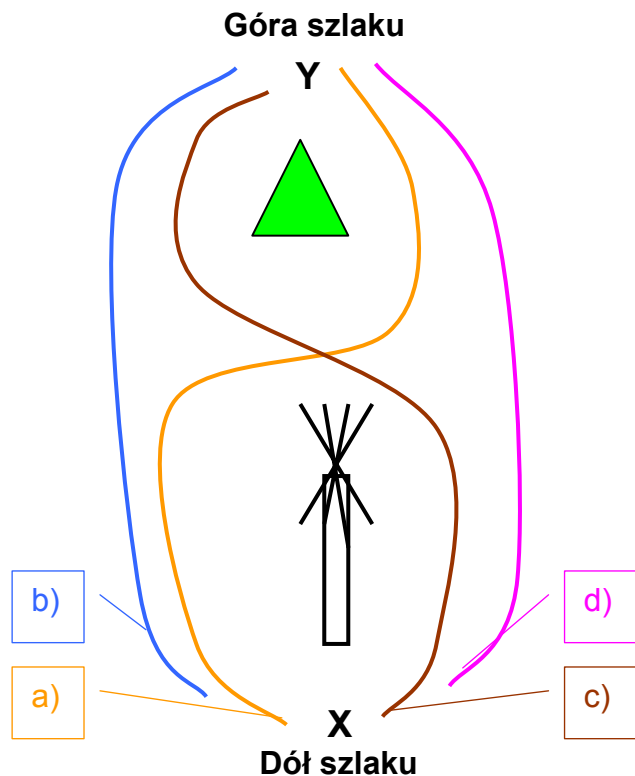
84. Wybierz przebieg szlaku wodnego (drogę jachtu) od punktu X do punktu Y, uwzględniając położenie góry i dołu szlaku:



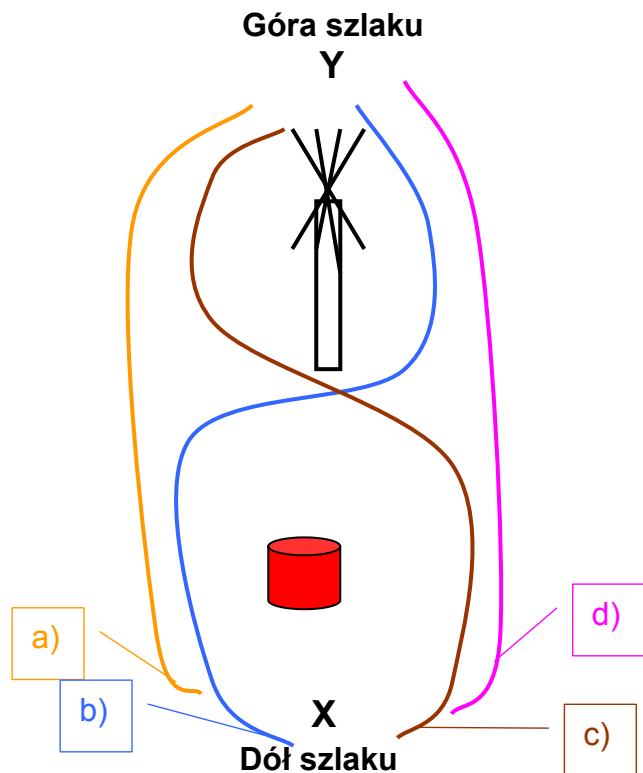
85. Wybierz przebieg szlaku wodnego (drogę jachtu) od punktu X do punktu Y, uwzględniając położenie góry i dołu szlaku:



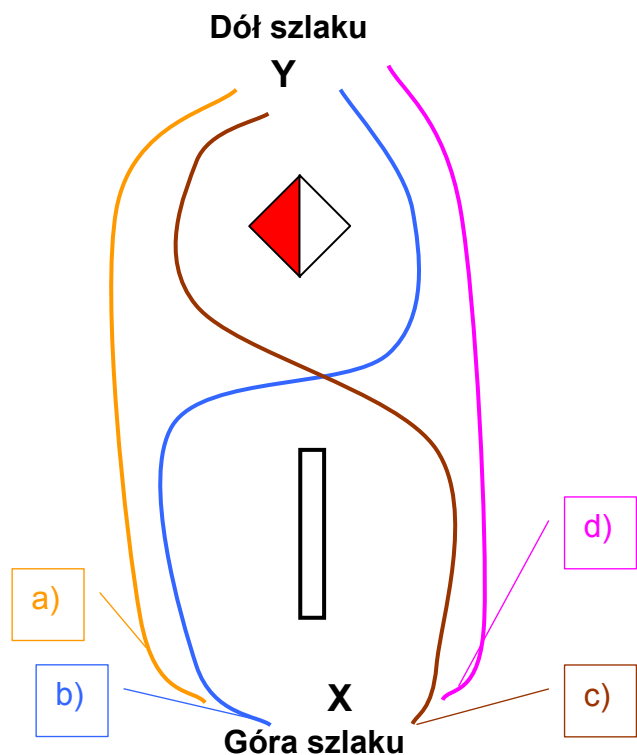
86. Wybierz przebieg szlaku wodnego (drogę jachtu) od punktu X do punktu Y, uwzględniając położenie góry i dołu szlaku:



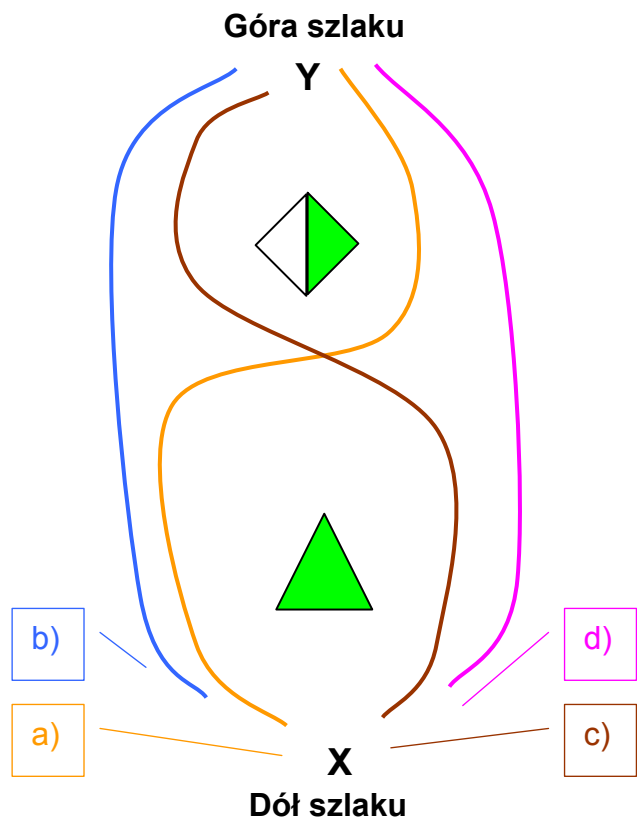
87. Wybierz przebieg szlaku wodnego (drogę jachtu) od punktu X do punktu Y, uwzględniając położenie góry i dołu szlaku:



88. Wybierz przebieg szlaku wodnego (drogę jachtu) od punktu X do punktu Y, uwzględniając położenie góry i dołu szlaku:



89. Wybierz przebieg szlaku wodnego (drogę jachtu) od punktu X do punktu Y, uwzględniając położenie góry i dołu szlaku:



90. Wybierz przebieg szlaku wodnego (drogę jachtu) od punktu X do punktu Y, uwzględniając położenie góry i dołu szlaku:

