

# **PYTANIA Z PRZEPISÓW NA STOPIEŃ ŻEGLARZA JACHTOWEGO**

## **1. Bez uprawnień można prowadzić jachty żaglowe:**

- a) o długości kadłuba maksymalnie do 5 m
- b) o długości kadłuba maksymalnie do 7,5 m
- c) nie można prowadzić żadnego jachtu
- d) o długości kadłuba maksymalnie do 6,5 m

## **2. Jakie minimalne uprawnienia są wymagane do prowadzenia jachtu na wodach śródlądowych o długości kadłuba 8,5 m?**

- a) nie są wymagane żadne
- b) patent żeglarza jachtowego
- c) patent sternika jachtowego
- d) karta pływacka

## **3. Żeglarz jachtowy w wieku 15 lat może prowadzić jachty żaglowe:**

- a) po wodach śródlądowych bez ograniczeń co do powierzchni ożaglowania
- b) niezatapialne po wodach morskich, a w regatach i na treningu pod nadzorem oraz po wodach śródlądowych bez ograniczeń
- c) po wodach śródlądowych pod nadzorem oraz jachty o długości kadłuba do 8,5 m po wodach morskich, w strefie 2 mil morskich od brzegu pod nadzorem
- d) żadna z powyższych odpowiedzi nie jest prawidłowa

## **4. Czy żeglarz jachtowy może prowadzić jacht w porze nocnej?**

- a) tylko jacht żaglowy wyposażony w silnik pomocniczy
- b) jacht posiadające stosowne światła nawigacyjne
- c) jacht posiadający stosowne światła nawigacyjne tylko na wodach, na których żegluga w nocy jest dozwolona
- d) nie może

## **5. Czy pełnoletni żeglarz jachtowy może zabrać na rejs osobę nie posiadającą stopnia żeglarskiego?**

- a) nie
- b) tak, ale tylko osobę pełnoletnią
- c) tak, niezależnie od wieku
- d) tak, ale tylko umiejącą pływać

## **6. "Statek" w pojęciu przepisów żeglugowych na śródlądowych drogach wodnych to:**

- a) statek uprawiający tylko żeglugę śródlądową
- b) każdy statek i prom z wyjątkiem urządzeń pływających nie posiadającego własnego napędu
- c) statek żeglugi śródlądowej, w tym mały statek lub prom, a także urządzenie pływające i statek morski
- d) statek wprowadzany w ruch tylko przez mechaniczne urządzenie napędowe

## **7. "Statek żaglowy" w pojęciu przepisów żeglugowych na śródlądowych drogach wodnych to:**

- a) każdy statek uprawiający żeglugę za pomocą żagli lub silnika pomocniczego
- b) każdy statek uprawiający żeglugę za pomocą żagli i równocześnie silnika pomocniczego
- c) każdy statek uprawiający żeglugę wyłącznie za pomocą żagli
- d) każdy statek zarejestrowany jako statek żaglowy

**8. "Statek o napędzie mechanicznym" w pojęciu przepisów żeglugowych na śródlądowych drogach wodnych to:**

- a) każdy statek uprawiający żeglugę śródlądową
- b) każdy statek wyposażony w silnik i płynący na żaglach
- c) każdy statek wprowadzany w ruch przez maszynę
- d) każdy statek wprowadzany w ruch za pomocą wiosła

**9. Co oznacza sygnał: jeden długi dźwięk?**

- a) "Uwaga"
- b) "Wzywam pomocy"
- c) "Niebezpieczeństwo zderzenia"
- d) "Człowiek za burtą"

**10. Co oznacza sygnał dźwiękowy składający się z jednego krótkiego, jednego długiego i dwóch krótkich dźwięków?**

- a) "Wzywam pomocy"
- b) "Nie mogę manewrować"
- c) "Zatrzymajcie natychmiast swój statek"
- d) "Niebezpieczeństwo Zderzenia"

**11. Co oznacza sygnał dźwiękowy składający się z serii podwójnych krótkich dźwięków?**

- a) "Nie mogę manewrować"
- b) "Człowiek za burtą"
- c) "Wzywam pomocy"
- d) "Moje maszyny pracują wstecz"

**12. Co oznaczają powtarzane długie dźwięki?**

- a) "Człowiek za burtą"
- b) "Wzywam pomocy"
- c) "Niebezpieczeństwo zderzenia"
- d) "Nie mogę manewrować"

**13. Co oznacza powtarzana seria uderzeń w dzwon?**

- a) "Wzywam pomocy"
- b) "Stoję na mieliźnie"
- c) "Stoję na kotwicy"
- d) "Niebezpieczeństwo zderzenia"

**14. Co oznacza jeden długi dźwięk, nadawany z przerwami nie dłuższymi niż jedna minuta, podczas ograniczonej widzialności?**

- a) "Stoję na kotwicy"
- b) "Pojedynczy statek w ruchu"
- c) "Zestaw w ruchu"
- d) "Stoję na mieliźnie"

**15. Co oznacza zataczanie kręgów rękami?**

- a) sygnał wzywania pomocy
- b) sygnalizowanie sąsiadom jachtom, że zbliżają się do niebezpieczeństwa
- c) zwyczajowy gest pozdrowienia innych jachtów
- d) sygnalizowanie innym jachtom utratę zdolności manewrowej

**16. Co oznacza kula wisząca nad flagą?**

- a) mam uszkodzony silnik
- b) mam uszkodzony ster i nie mogę manewrować
- c) sygnał wzywania pomocy
- d) mam nurka pod wodą

**17. Co oznacza zataczanie kręgów latarką?**

- a) zwyczajowy gest pozdrowienia innych jachtów w nocy
- b) sygnał wzywania pomocy
- c) mam ciężko rannego na pokładzie
- d) nie mogę manewrować

**18. Co oznaczają rakiety wyrzucające czerwone gwiazdy?**

- a) sygnał zwrócenia uwagi innym jachtom
- b) sygnał wzywania pomocy
- c) uroczyste rozpoczęcie regat
- d) zatrzymajcie natychmiast wasz statek

**19. Co oznacza następujący sygnał świetlny: trzy krótkie, trzy długie, trzy krótkie błyski?**

- a) sygnał wzywania pomocy
- b) ostrzeżenie innych jachtów że zbliżają się mielizny
- c) ostrzeżenie innych jachtów że istnieje niebezpieczeństwo zderzenia
- d) sygnał informujący o rozpoczęciu regat w 3 klasach równocześnie

**20. Co oznacza płomień na statku, wg przepisów żeglugowych?**

- a) pożar na pokładzie
- b) sygnał wzywania pomocy
- c) ćwiczenia "alarm pożarowy"
- d) zastąpienie świateł nawigacyjnych w przypadku ich awarii

**21. Co oznacza rakietą spadochronowa paląca się czerwonym płomieniem?**

- a) koniec regat
- b) początek regat
- c) sygnał wzywania pomocy
- d) sygnał zwrócenia uwagi

**22. Kiedy światła nawigacyjne statku powinny być zapalone?**

- a) od świtu do zmierzchu oraz w warunkach ograniczonej widzialności
- b) od godz. 20<sup>00</sup> do godz. 06<sup>00</sup> dnia następnego
- c) od zachodu do wschodu słońca oraz w warunkach ograniczonej widzialności
- d) od godz. 19<sup>00</sup> do godz. 07<sup>00</sup> dnia następnego

**23. Podaj kolor i kąt świecenia światła masztowego?**

- a) kolor biały, kąt 225°
- b) kolor biały, kąt 135°
- c) kolor żółty, kąt 135°
- d) kolor żółty, kąt 225°

**24. Podaj kolor i kąt świecenia światła rufowego?**

- a) kolor biały, kąt 225°
- b) kolor biały, kąt 135°
- c) kolor żółty, kąt 225°
- d) kolor żółty, kąt 135°

**25. Podaj kolor i kąt świecenia światła burtowego lewego?**

- a) kolor czerwony; kąt 135°
- b) kolor zielony; kąt 135°
- c) kolor czerwony; kąt 112,5°
- d) kolor zielony; kąt 112,5°

**26. Podaj kolor i kąt świecenia światła burtowego prawego?**

- a) kolor czerwony; kąt  $135^\circ$
- b) kolor zielony; kąt  $135^\circ$
- c) kolor czerwony; kąt  $112,5^\circ$
- d) kolor zielony; kąt  $112,5^\circ$

**27. Czym różni się oznakowanie nocne małego statku o napędzie mechanicznym od oznakowania jachtu żaglowego?**

- a) położeniem światła masztowego
- b) położeniem światła burtowych
- c) brakiem światła masztowego
- d) występowaniem światła masztowego

**28. Określ jakie światła w nocy może pokazywać mały statek o napędzie mechanicznym o długości mniejszej niż 7m i prędkości do 10 km/h:**

- a) światło masztowe
- b) dwa białe światła widoczne ze wszystkich stron
- c) światła burtowe i rufowe
- d) białe światło widoczne ze wszystkich stron

**29. Określ jakie światła w nocy może pokazywać mały statek żaglowy:**

- a) światło masztowe, światła burtowe świecące z jednej latarni i światło rufowe
- b) światła burtowe świecące z jednej latarni i światło masztowe
- c) światła burtowe i światło rufowe świecące z tej samej latarni na szczycie masztu
- d) światła burtowe i białe światło widoczne ze wszystkich stron

**30. Określ jakie światła w nocy pokazuje mały statek żaglowy korzystający równocześnie z żagli i silnika:**

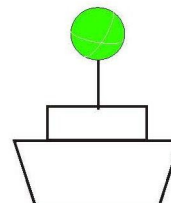
- a) światło masztowe, światła burtowe i światło rufowe
- b) światła burtowe, światło rufowe, oraz światła czerwone nad zielonym umieszczone na topie masztu
- c) dodatkowe białe światło widoczne ze wszystkich stron
- d) światła burtowe i światło rufowe świecące z tej samej latarni umieszczonej na szczycie masztu

**31. Jaki znak oznacza jacht płynący pod żaglami i na silniku w porze dziennej?**

- a) czarna kula
- b) czarny stożek skierowany wierzchołkiem w dół
- c) czarny romb
- d) żółty podwójny stożek

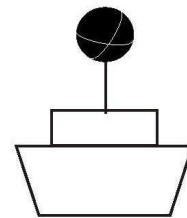
**32. Co oznacza zielona kula wywieszona na maszcie statku?**

- a) statek przeznaczony do przewozu więcej niż 12 pasażerów
- b) prom
- c) statek straży granicznej
- d) statek na kotwicy



**33. Co oznacza czarna kula wywieszona na maszcie statku?**

- a) statek żaglowy korzystający równocześnie z żagli i silnika
- b) statek o długości mniejszej niż 20m, który posiada zezwolenie na przewóz więcej niż 12 pasażerów
- c) prom na uwięzi
- d) statek na kotwicy

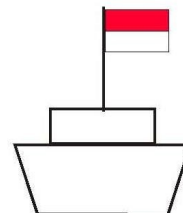


**34. Jak jest oznaczony w nocy jacht stojący na kotwicy?**

- a) białe światło widoczne ze wszystkich stron
- b) żółte światło widoczne ze wszystkich stron
- c) czerwone światło widoczne ze wszystkich stron
- d) zielone światło widoczne ze wszystkich stron

**35. Co oznacza, widoczna ze wszystkich stron flaga czerwono-biała podniesiona na statku?**

- a) zakaz przejścia - szlak żeglowny jest zamknięty
- b) czasowy zakaz przejścia
- c) zakaz wytwarzania fali
- d) wezwanie do zatrzymania statku



**36. Kiedy jacht żaglowy uważa się za statek o napędzie mechanicznym?**

- a) gdy płynie korzystając z wiosel
- b) gdy płynie korzystając równocześnie z żagli i silnika
- c) gdy posiada silniki na stałe wbudowany
- d) gdy posiada przyczepny silnik pomocniczy

**37. Mały statek to statek o maksymalnej długości mniejszej niż:**

- a) 15 m
- b) 20 m
- c) 10 m
- d) 25 m

**38. Kto jest odpowiedzialny za bezpieczeństwo statku i załogi?**

- a) kierownik statku
- b) osoba z najwyższym stopniem żeglarskim
- c) osoba sterująca jachtem
- d) osoba pełnoletnia znajdująca się na pokładzie

**39. Kto jest odpowiedzialny za przestrzeganie przepisów żeglugowych?**

- a) kierownik statku
- b) załoga
- c) osoba sterująca jachtem
- d) właściciel jachtu (armator)

**40. Kogo należy powiadomić w przypadku zatonięcia jednostki na szlaku żeglownym?**

- a) Urząd Gminy
- b) Urząd Żeglugi Śródlądowej i Policję
- c) Okręgowy Związek Żeglarski
- d) Wodne Ochotnicze Pogotowie Ratunkowe

**41. Kogo należy powiadomić o wypadku utonięcia na szlaku żeglownym?**

- a) Okręgowy Związek Żeglarski
- b) Urząd Żeglugi Śródlądowej i Policję
- c) Urząd Gminy
- d) Armatora i ubezpieczyciela

**42. Kogo należy zawiadomić w razie nadzwyczajnego zagrożenia środowiska w wyniku wypadku żeglugowego?**

- a) Okręgowy Związek Żeglarski
- b) Urząd Żeglugi Śródlądowej i Policję
- c) Urząd Żeglugi Śródlądowej i Państwową Straż Pożarną
- d) Urząd Gminy

**43. Kogo należy powiadomić o uszkodzeniu znaku żeglugowego?**

- a) Urząd Żeglugi Śródlądowej lub Administrację drogi wodnej
- b) Okręgowy Związek Żeglarski
- c) Urząd Gminy na terenie której znajdują się wody z uszkodzonym znakiem
- d) Policję

**44. Czy ubezpieczenie jachtu jest obowiązkowe?**

- a) tak
- b) nie
- c) tak, gdy jacht przeznaczony jest do przewozu więcej niż 5 osób
- d) tak, gdy jacht ma długość kadłuba mniejszą niż 12 m

**45. Obowiązek rejestracji obejmuje jachty żaglowe:**

- a) o długości kadłuba powyżej 10 m
- b) o długości kadłuba powyżej 5 m
- c) o długości kadłuba powyżej 12 m
- d) o powierzchni pokładu (długość x szerokość) większej niż 20 m<sup>2</sup>

**46. Jaki dokument jachtu wystawia PZŻ?**

- a) dowód rejestracyjny jachtu
- b) nie wystawia żadnych dokumentów jachtu
- c) świadectwo zdolności żeglugowej
- d) kartę bezpieczeństwa

**47. Etykieta jachtowa to:**

- a) zbiór przepisów regulujących zachowanie się żeglarzy
- b) ustalony i przyjęty sposób zachowania się żeglarzy
- c) zasady ustalone przez kierownika statku obowiązujące na jachcie
- d) przepisy wydane przez PZŻ dotyczące wyglądu jachtu

**48. Gdzie jest podnoszona bandera na jachcie typu słup bermudzki:**

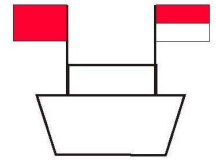
- a) pod prawym salingiem
- b) na topie masztu
- c) na flagsztoku na rufie jachtu
- d) na achtersztagu

**49. Gdzie jest podnoszona bandera na jachcie typu słup gaflowy płynącym pod żaglami:**

- a) pod prawym salingiem
- b) na topie masztu
- c) na flagsztoku na rufie jachtu
- d) pod pikiem gafla

**50. Widząc statek pokazujący z jednej strony flagę czerwono-białą i z drugiej strony flagę czerwoną:**

- a) przepływamy od strony flagi czerwonej
- b) oczekujemy ze strony statku pokazującego te flagi na sygnał pozwolenia na przepłynięcie
- c) przepływamy od strony flagi czerwono-białej unikając wytwarzania fali
- d) obowiązkowo dobijamy do statku od strony flagi czerwono-białej w celu uzyskania informacji o zagrożeniach na szlaku wodnym

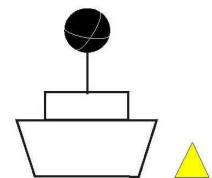


**51. Statek, który pokazuje z jednej strony czerwoną kulę i z drugiej dwa zielone podwójne stożki to:**

- a) statek, lub urządzenie zajęte pracą na wodzie - przepływać od strony zielonych stożków
- b) prom przemieszczający się swobodnie - wytwarza wiry od strony zielonych stożków
- c) statek pozostawiający wolne miejsce na przejście od strony czerwonej kuli
- d) statek spełniający miejsce postoju - cumować od strony zielonych stożków

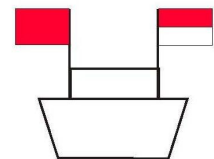
**52. Jeśli na wodzie w pobliżu statku pokazującego czarną kulę znajduje się żółta pławka to należy:**

- a) nie przepływać pomiędzy pławką, a statkiem
- b) zacumować się do pławki na krótki postój, jeśli z naprzeciwka płynie statek
- c) przepłynąć między pławką, a najbliższym niej statkiem
- d) zawrócić, ponieważ ta pławka oznacza koniec szlaku.



**53. Statek pokazujący z jednej strony flagę czerwono-białą i z drugiej strony flagę czerwoną to statek:**

- a) zajęty pilotażem
- b) zajęty wybieraniem sieci.  
Sieci są od strony gdzie jest flaga czerwono-biała
- c) zajęty pracą lub statek na mieliźnie.  
Nie przepływamy od strony flagi czerwonej
- d) prom przygotowujący się do odejścia od brzegu

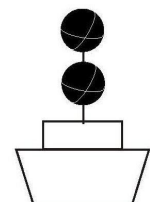


**54. Utratę manewrowości małego statku można zasygnalizować:**

- a) wywieszeniem czarnego stożka
- b) wciągnięciem na maszt czerwonego proporca
- c) zataczaniem kręgów dowolnym widocznym przedmiotem
- d) czerwoną flagą poruszającą się wahadłowo

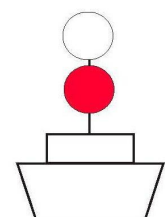
**55. Oznakowanie złożone z dwóch czarnych kul, jedna nad drugą, widocznych ze wszystkich stron oznacza, że statek:**

- a) jest zajęty połowem
- b) przewozi materiały niebezpieczne
- c) utracił manewrowość
- d) wzywa pomocy



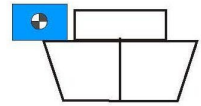
**56. Mały statek wylaniający się z za zakrętu na kanale pokazujący światło białe i pod nim światło czerwone, oba widoczne ze wszystkich stron to:**

- a) statek zajęty połowem - ciągnie sieć
- b) statek Urzędu Żeglugi - wzywa nas do zatrzymania się
- c) statek zajęty pilotażem - z za zakrętu może wypłynąć duża barka
- d) statek Służby Ochrony Przyrody - zbliżamy się do granicy Parku Narodowego



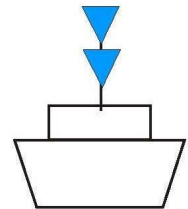
**57. Statek, który płynie w górę szlaku i pokazuje ze swojej prawej burty tablicę jasnoniebieską z białym migającym światłem:**

- a) pozostawia wolną drogę do mijania ze swojej lewej burty
- b) sygnalizuje, że od strony tablicy ma wystawione narzędzie połowu
- c) pozostawia wolną drogę do mijania ze swojej prawej burty
- d) sygnalizuje, że prawą burtą będzie podchodził do brzegu



**58. Jeden, dwa, lub trzy niebieskie stożki podniesione na statku na wodach śródlądowych oznaczają:**

- a) statek, który jest załadowany materiałami niebezpiecznymi
- b) statek, który wzywa pomocy
  - ilość stożków oznacza rodzaj zagrożenia dla statku
- c) statek, który płynie w górę szlaku i zostawia miejsce z lewej burty
- d) statek Urzędu Żeglugi Śródlądowej



**59. Jak można nadać sygnał wzywania pomocy:**

- a) zataczając kręgi światłem dowolnego koloru
- b) za pomocą latarki świecąc cyklicznie co 1 minutę trzy jednosekundowe błyski
- c) oświetlając w nocy ciągłym świeceniem latarki żagle
- d) widząc śmigłowiec nad głowami, podnosimy lewą rękę do góry i opuszczamy pod kątem prawą.

**60. Sygnał składający się z serii bardzo krótkich dźwięków oznacza:**

- a) wzywam pomocy
- b) niebezpieczeństwo zderzenia
- c) ciągnę sieć
- d) zatrzymaj natychmiast swój statek

**61. Określ jakie światła w nocy powinien pokazywać mały statek żaglowy w drodze:**

- a) światło masztowe, światła burtowe świecące z jednej latarni i światło rufowe
- b) światła burtowe świecące z jednej latarni i światło masztowe
- c) światła burtowe świecące z jednej latarni i światło rufowe
- d) światła burtowe i białe światło widoczne ze wszystkich stron

**62. Jaki minimalny zestaw światel może pokazywać w nocy mały statek żaglowy o długości mniejszej niż 7 m, w drodze:**

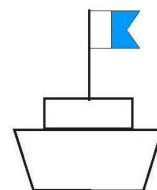
- a) światło masztowe, światła burtowe świecące z jednej latarni i światło rufowe
- b) światła burtowe i światło rufowe świecące z tej samej latarni na szczycie masztu
- c) światła burtowe świecące z jednej latarni i światło rufowe
- d) białe światło widoczne ze wszystkich stron i drugie białe światło oświetlające żagle, przy zbliżaniu się do innych statków

**63. Jacht żaglowy poruszający się równocześnie za pomocą żagli i silnika uznawany jest za:**

- a) statek o ograniczonej zdolności manewrowej
- b) statek żaglowy
- c) statek o napędzie mechanicznym
- d) statek żaglowo - motorowy

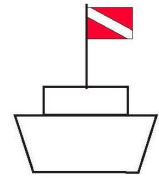


- 64. Co oznaczają dwa podwójne zielone stożki (w nocy dwa zielone światła) umieszczone pionowo jeden nad drugim, wywieszone na burcie stojącego statku:**
- a) strona statku osiadłego na mieliźnie, z której szlak żeglowny jest wolny dla przejścia statków
  - b) strona urządzenia pływającego lub statku wykonującego prace na drodze wodnej, z której szlak żeglowny jest zamknięty dla przejścia statków
  - c) strona urządzenia pływającego lub statku wykonującego prace na drodze wodnej, z której szlak żeglowny jest wolny dla przejścia statków
  - d) strona statku zatopionego z której szlak żeglowny jest wolny dla przejścia statków
- 65. Co oznacza powtarzane, powolne podnoszenie i opuszczanie obu ramion wyprostowanych w bok:**
- a) nie mogę manewrować
  - b) sygnał wzywania pomocy
  - c) zatrzymajcie natychmiast swój statek
  - d) niebezpieczeństwo zderzenia
- 66. Jeden krótki dźwięk nadany przez statek oznacza:**
- a) zmieniam mój kurs w lewo
  - b) zmieniam mój kurs w prawo
  - c) uwaga, zbliżam się do zakrętu
  - d) moje maszyny pracują wstecz
- 67. Dwa krótkie dźwięki nadane przez statek oznaczają:**
- a) człowiek za burtą
  - b) zmieniam mój kurs w lewo
  - c) zmieniam mój kurs w prawo
  - d) moje maszyny pracują wstecz
- 68. Trzy krótkie dźwięki nadane przez statek oznaczają:**
- a) niebezpieczeństwo zderzenia
  - b) moje maszyny pracują wstecz
  - c) nie mogę manewrować
  - d) sygnał wzywania pomocy
- 69. Cztery krótkie dźwięki nadane przez statek oznaczają:**
- a) niebezpieczeństwo zderzenia
  - b) moje maszyny pracują wstecz
  - c) nie mogę manewrować
  - d) sygnał wzywania pomocy
- 70. Seria bardzo krótkich dźwięków nadawanych przez statek oznacza:**
- a) niebezpieczeństwo zderzenia
  - b) zatrzymajcie natychmiast swój statek
  - c) nie mogę manewrować
  - d) sygnał wzywania pomocy
- 71. Statek pokazujący flagę białą niebieską z wycięciem w części niebieskiej to:**
- a) statek, do którego można zacumować
  - b) statek zajęty połowem
  - c) statek zajęty podwodnymi pracami – mam nurka
  - d) statek Urzędu Żeglugi wzywający nas do zatrzymania się



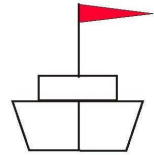
**72. Statek pokazujący flagę czerwoną z białym pasem po przekątnej to:**

- a) statek zajęty połowem
- b) statek w pobliżu którego znajduje się płetwonurek
- c) statek wzywający nas do zatrzymania się
- d) statek wzywający pomocy



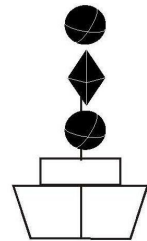
**73. Statek pokazujący w części dziobowej czerwony proporzec to:**

- a) statek przewożący materiały niebezpieczne
- b) statek wzywający pomocy
- c) statek zajęty holowaniem
- d) statek z pierwszeństwem przejścia



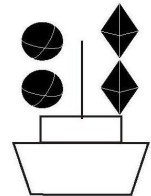
**74. Statek oznaczony jak obok to:**

- a) statek na kotwicy
- b) statek o ograniczonej zdolności manewrowania
- c) statek wzywający nas do zatrzymania się
- d) statek zajęty połowem



**75. Statek oznaczony jak obok to:**

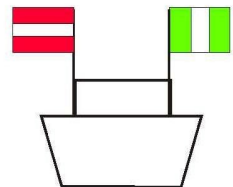
- a) statek zajęty pracami pozostawiający miejsce na przejście od strony rombów
- b) statek zajęty połowem pozostawiający miejsce na przejście od strony kul
- c) statek na kotwicy
- d) statek na mieliźnie pozostawiający miejsce na przejście od strony kul



**76. Statek pokazujący z jednej strony tablicę czerwoną z białym poziomym pasem**

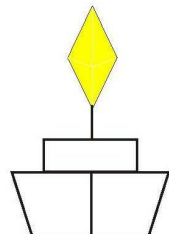
**i z drugiej strony tablicę zieloną z białym pionowym pasem to:**

- a) statek zajęty połowem
  - narzędzie połowu wystawione od strony czerwonej tablicy
- b) statek Urzędu Żeglugi
  - płynąc w dół szlaku przepływać od strony zielonej tablicy
  - płynąc w górę przepływać od strony tablicy czerwonej
- c) statek zajęty pracami - przepływać od strony tablicy zielonej
- d) statek Urzędu Żeglugi
  - płynąc w dół szlaku przepływać od strony czerwonej tablicy
  - płynąc w górę przepływać od strony tablicy zielonej



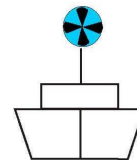
**77. Statek pokazujący żółty podwójny stożek to:**

- a) statek o długości mniejszej niż 20 metrów uprawniony do przewozu więcej niż 12 pasażerów - ustępujemy mu
- b) statek zajęty holowaniem
- c) statek na kotwicy
- d) statek który utracił zdolność manewrową.



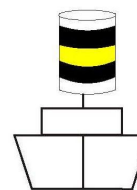
**78. Statek pokazujący niebieskie migające światło to:**

- a) Statek zajęty połowem za pomocą prądu
- b) Statek zajęty holowaniem
- c) Statek o ograniczonej zdolności manewrowej
- d) Statek organów kontroli



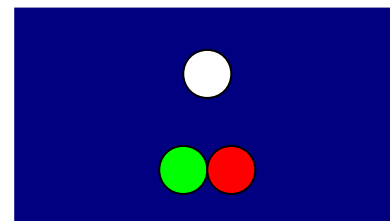
**79. Statek oznaczony jak obok to:**

- a) statek zajęty holowaniem
- b) statek zajęty połowem
- c) statek na kotwicy
- d) statek organów kontroli



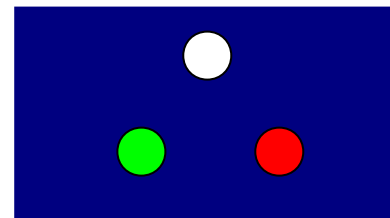
**80. Określ, jaki statek pokazuje widoczne światła?**

- a) jacht żaglowy, dziób
- b) jacht motorowy, dziób
- c) prom przemieszczający się swobodnie, lewa burta
- d) łódź wiosłowa, dziób




**81. Określ, jaki statek pokazuje widoczne światła?**

- a) statek żaglowy, dziób
- b) pracujące urządzenie pływające, dziób, wolne przejście od strony zielonego światła
- c) statek o napędzie mechanicznym, dziób
- d) statek zajęty połowem, wybiera sieci




**82. Określ, jaki statek pokazuje widoczne światła?**

- a) jacht żaglowy, lewa burta
- b) jacht motorowy, lewa burta
- c) jacht żaglowy, prawa burta
- d) jacht motorowy, prawa burta




**83. Określ, jaki statek pokazuje widoczne światła?**

- a) jacht żaglowy, lewa burta
- b) jacht motorowy, lewa burta
- c) jacht żaglowy, prawa burta
- d) jacht motorowy, prawa burta




**84. Określ, jaki statek pokazuje widoczne światła?**

- a) jacht żaglowy, lewa burta
- b) jacht motorowy, lewa burta
- c) jacht żaglowy, prawa burta
- d) jacht motorowy, prawa burta



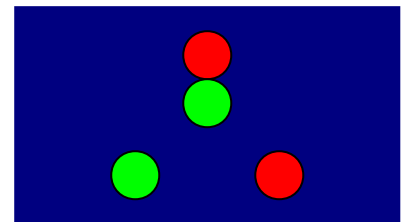
**85. Określ, jaki statek pokazuje widoczne światła?**

- a) jacht żaglowy, lewa burta
- b) jacht motorowy, lewa burta
- c) jacht żaglowy, prawa burta
- d) jacht motorowy, prawa burta



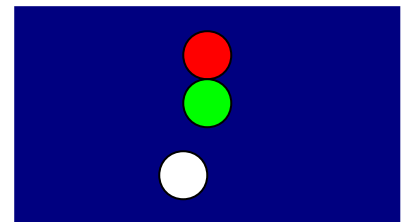
**86. Określ, jaki statek pokazuje widoczne światła?**

- a) statek o napędzie mechanicznym, dziób
- b) statek Straży Granicznej, dziób, sygnalizuje nakaz zatrzymania się
- c) statek żaglowy w drodze, dziób
- d) statek zajęty połowem, dziób, wydaje sieci



**87. Określ, jaki statek pokazuje widoczne światła?**

- a) statek o napędzie mechanicznym, rufa
- b) statek Straży Granicznej, rufa, sygnalizuje nakaz zatrzymania się
- c) statek żaglowy w drodze, rufa
- d) statek zajęty połowem, rufa, wydaje sieci



**88. Jeżeli dwa jachty żaglowe płyną różnymi halsami i istnieje ryzyko zderzenia to z drogi powinien ustąpić:**

- a) jacht, który ma drugi jacht ze swej prawej burty
- b) jacht, który ma drugi jacht ze swej lewej burty
- c) jacht płynący lewym halsiem
- d) jacht płynący prawym halsiem

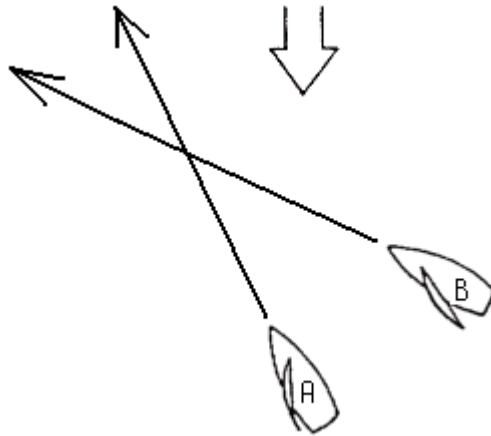
**89. Jeżeli jacht żaglowy i jacht motorowy płyną kursami przecinającymi się i istnieje ryzyko zderzenia, to z drogi powinien ustąpić:**

- a) jacht żaglowy, jeżeli płynie lewym halsiem
- b) jacht, który ma drugi jacht ze swej prawej burty
- c) jacht, który ma drugi jacht ze swej lewej burty
- d) jacht motorowy

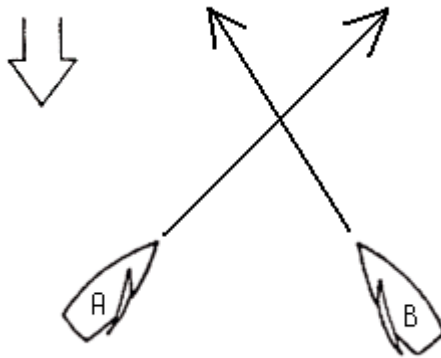
**90. Jeżeli dwa jachty żaglowe płyną tym samym halsiem i istnieje ryzyko zderzenia, to z drogi powinien ustąpić:**

- a) jacht nawietrzny
- b) jacht zawietrzny
- c) jacht płynący z większą prędkością
- d) jacht, który ma drugi jacht ze swej prawej burty

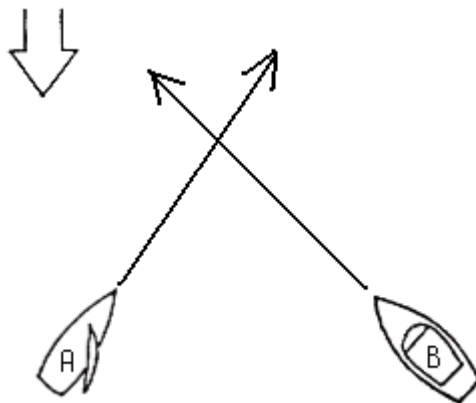
91. Który statek z przedstawionych na rysunku powinien ustąpić z drogi:



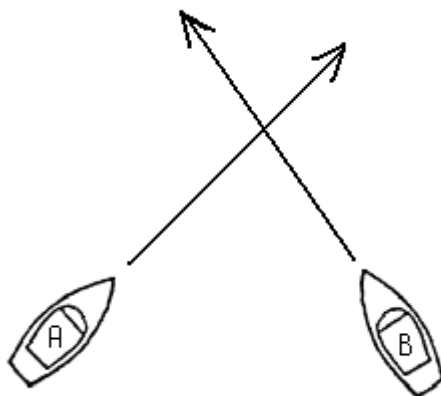
92. Który statek z przedstawionych na rysunku powinien ustąpić z drogi:



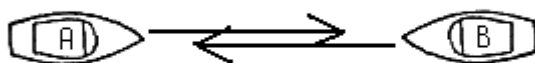
93. Który statek z przedstawionych na rysunku powinien ustąpić z drogi:



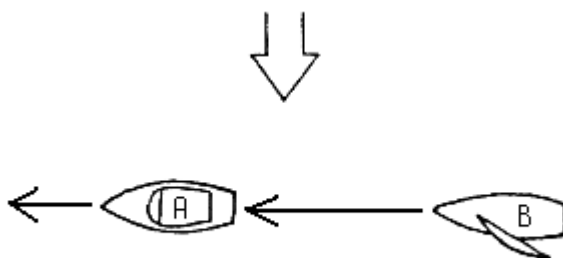
94. Który statek z przedstawionych na rysunku powinien ustąpić z drogi:



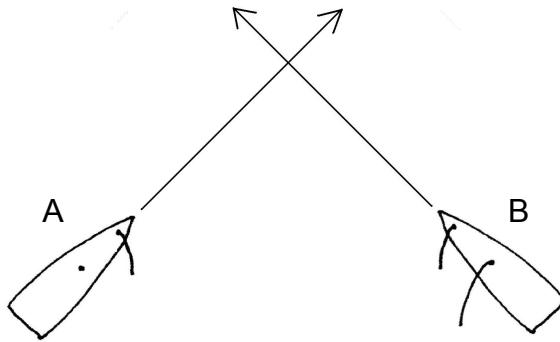
95. Który statek z przedstawionych na rysunku powinien ustąpić z drogi:



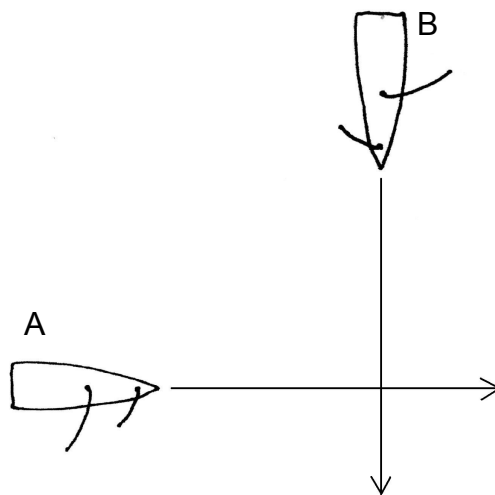
96. Wyprzedzanie - który statek z przedstawionych na rysunku powinien ustąpić z drogi:



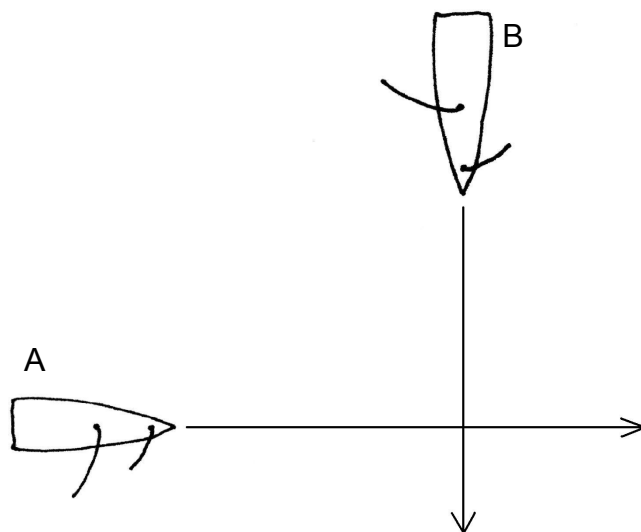
97. Który statek z przedstawionych na rysunku powinien ustąpić z drogi:



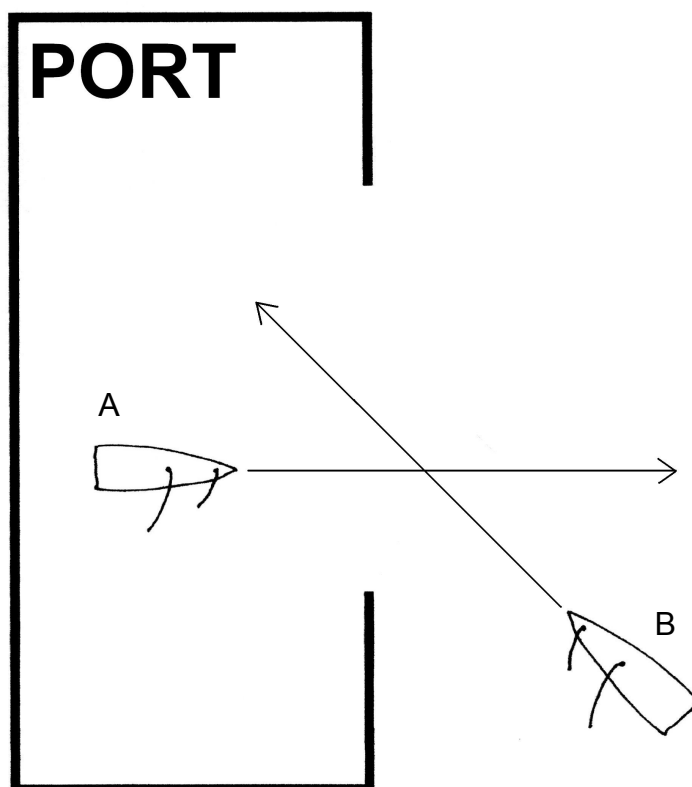
98. Który statek z przedstawionych na rysunku powinien ustąpić z drogi:



99. Który statek z przedstawionych na rysunku powinien ustąpić z drogi:

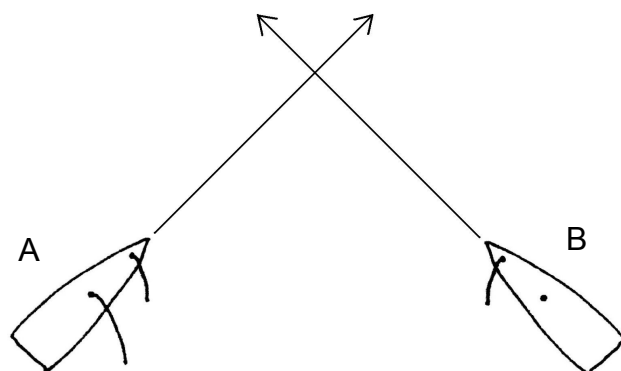


100. Który statek z przedstawionych na rysunku powinien ustąpić z drogi:





101. Który statek z przedstawionych na rysunku powinien ustąpić z drogi:



102. Który statek z przedstawionych na rysunku powinien ustąpić z drogi:

